

**Epreuve : Master (1<sup>ère</sup> Année)**  
**Durée: 1h 30mn**

**Exercice N°01**

On considère le filtre numérique défini par la relation de récurrence suivante :

$$y(n) - \frac{1}{2}y(n-1) = x(n)$$

avec la condition initiale :  $y(n) = 0$ , pour  $n < 0$ .

1. Déterminer la fonction de transfert  $H(z)$  du filtre défini par cette relation. Ce filtre est-il stable? *02 points*
2. En déduire l'expression suivante pour le module de sa réponse en fréquence : *01 points*

$$|H(f)| = \sqrt{\frac{1}{\frac{3}{4} - \cos(2\pi f)}}$$

Représenter l'allure de  $|H(f)|^2$ .

*01 points*

3. Calculer sa réponse impulsionnelle  $h(n)$  de deux façons différentes : *02 points*  
 - en revenant à la définition de la réponse impulsionnelle :  
 - en partant de  $H(z)$ .

On rappelle que pour  $|z| < 1$  :

$$\frac{1}{1-z} = \sum_{n=0}^{\infty} z^n$$

4. On suppose que  $X(n)$  est un signal aléatoire, stationnaire au second ordre, centré et de fonction d'autocorrélation :

$$R_X(k) = \begin{cases} 1 & \text{si } k = 0 \\ \frac{1}{2} & \text{si } k \pm 1 \\ 0 & \text{sinon} \end{cases}$$

Déterminer la densité spectrale de puissance  $S_X(f)$  de la suite aléatoire  $X(n)$ . Représenter son allure. *02 points*

5. Calculer la d.s.p.  $S_Y(f)$  de la suite aléatoire  $Y(n)$  observée en sortie du filtre. Représenter son allure. *02 points*

**Exercice N°02**

On considère la fonction aléatoire  $X(t) = f(t, A)$  où  $f$  est une fonction connue quelconque et  $A$ , une variable aléatoire de densité de probabilité  $T_A(a)$  connue. On demande

a) de trouver l'expression de  $m_X(t)$  et de  $C_X(t, t')$ , de même que  $\sigma_X^2(t)$ . *3 points*

b) d'appliquer ce résultat à  $X(t) = a \sin(\omega t + \phi)$  et  $Y(t) = a \cos(\omega t + \phi)$ , où  $\phi$  est une variable de chance sur  $[0, 2\pi]$ . Déterminez aussi  $C_{XY}(t, t')$ . *01 points* *06 points*

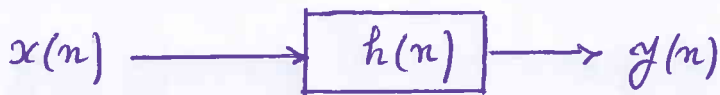
Corrigé de l'Epreuve du  
Master 1 : Instrumentation et  
Electronique des systèmes embarqués

Exercice N° 01.

Soit l'équation de récurrence suivante :

$$y(n) - \frac{1}{2} y(n-1) = x(n)$$

$$y(n) = 0 \text{ pour } n < 0.$$



01) -  $H(z) = \mathcal{TZ}[h(n)]$  ?

D'après l'équation de récurrence :  $Y(z) - \frac{1}{2} z^{-1} Y(z) = X(z)$

$$Y(z) \left[ 1 - \frac{1}{2} z^{-1} \right] = X(z) \Rightarrow$$

$$H(z) = \frac{Y(z)}{X(z)} = \frac{1}{1 - \frac{1}{2} z^{-1}} = \frac{z}{z - \frac{1}{2}}$$

$$H(z) = \frac{z}{z - \frac{1}{2}}$$

1 point

- Le filtre est stable car le pôle  $z = \frac{1}{2}$  et  $|z| < 1$   
le pôle est à l'intérieur du cercle unité

1 point

02) - La réponse en fréquence  $H(\omega) = H(z) \Big|_{z=e^{j\omega}}$

$$\text{et } H(f) = H(z) \Big|_{z=e^{j2\pi f}}$$

$$H(f) = \frac{1}{1 - \frac{1}{2} e^{-j2\pi f}} = \frac{1}{1 - \frac{1}{2} [\cos 2\pi f - j \sin 2\pi f]}$$

$$H(f) = \frac{1}{\left(1 - \frac{1}{2} \cos 2\pi f\right) - \frac{1}{2} j \sin 2\pi f}$$

$$|H(f)| = \frac{1}{\sqrt{\left(1 - \frac{1}{2} \cos 2\pi f\right)^2 + \frac{1}{4} \sin^2 2\pi f}}$$

$$|H(f)| = \frac{1}{\sqrt{1 + \frac{1}{4} \cos^2 2\pi f - \cos 2\pi f + \frac{1}{4} \sin^2 2\pi f}}$$

$$|H(f)| = \frac{1}{\sqrt{1 + \frac{1}{4} - \cos 2\pi f}} = \frac{1}{\sqrt{\frac{5}{4} - \cos 2\pi f}}$$

1 point

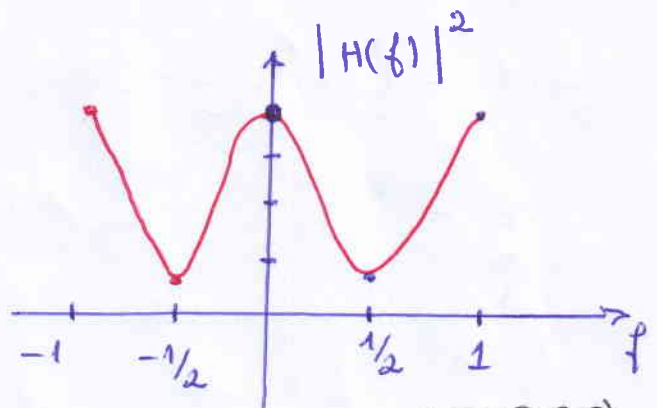
$$|H(f)|^2 = \frac{1}{\frac{5}{4} - \cos 2\pi f}$$

L'allure de  $|H(f)|^2$ .

$$\text{à } f=0 \rightarrow |H(f)|^2 = 4$$

$$\text{à } f = \pm \frac{1}{2} \rightarrow |H(f)|^2 = \frac{4}{9}$$

$$\text{à } f = \pm 1 \rightarrow |H(f)|^2 = 4$$



1 point

La réponse fréquentielle  $|H(f)|^2$  est périodique de période 1.

03) - La réponse impulsionnelle  $h(n)$  ?

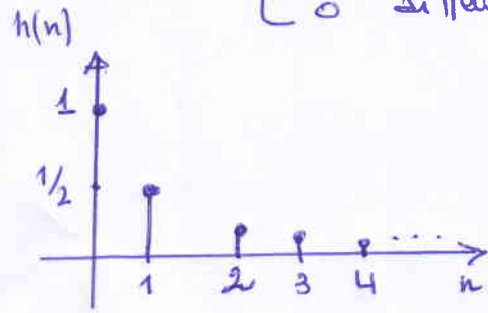
1<sup>re</sup> méthode :  $H(z) = \frac{1}{1 - \frac{1}{2} z^{-1}} = \sum_{n=0}^{\infty} \left(\frac{1}{2} z^{-1}\right)^n$

$$H(z) = \sum_{n=0}^{\infty} \left(\frac{1}{2}\right)^n \cdot z^{-n} = \sum_{n=0}^{\infty} h(n) \cdot z^{-n}$$

$$\Rightarrow h(n) = \left(\frac{1}{2}\right)^n \cdot u(n)$$

$$\text{tel que } u(n) = \begin{cases} 1, & n \geq 0 \\ 0 & \text{si } n < 0 \end{cases}$$

1 point



2<sup>ème</sup> méthode :

à partir de l'équation de récurrence.

$$y(n) - \frac{1}{2} y(n-1) = x(n)$$

$$y(n) = \frac{1}{2} y(n-1) + x(n)$$

$$y(0) = \frac{1}{2} y(-1) + x(0) = x(0) \quad (1) \quad \text{à } n=0$$

$$y(1) = \frac{1}{2} y(0) + x(1)$$

$$y(1) = \frac{1}{2} \cdot x(0) + x(1) \quad (2)$$

$$y(2) = \frac{1}{2} \cdot y(1) + x(2)$$

$$y(2) = \frac{1}{4} \cdot x(0) + \frac{1}{2} x(1) + x(2) = \frac{1}{2} [x(0) + x(1)] + x(2)$$

$$y(3) = \frac{1}{2} y(2) + x(3)$$

$$y(3) = \frac{1}{8} x(0) + \frac{1}{4} x(1) + \frac{1}{2} x(2) + x(3)$$

⋮

$$y(n) = \frac{1}{2^n} \cdot x(0) + \frac{1}{2^{n-1}} x(1) + \frac{1}{2^{n-2}} x(2) + \dots + x(n)$$

$$y(n) = \frac{1}{2^n} x(n) * \delta(n) + \frac{1}{2^n} x(n) * \delta(n-1) +$$

$$\frac{1}{2^n} x(n) * \delta(n-2) +$$

$$\Rightarrow y(n) = x(n) * \left[ \delta(n) + \frac{1}{2} \delta(n-1) + \frac{1}{4} \delta(n-2) + \dots + \frac{1}{2^n} \delta(0) \right]$$

$$\Rightarrow h(n) = \delta(n) + \frac{1}{2} \delta(n-1) + \frac{1}{4} \delta(n-2) + \dots$$

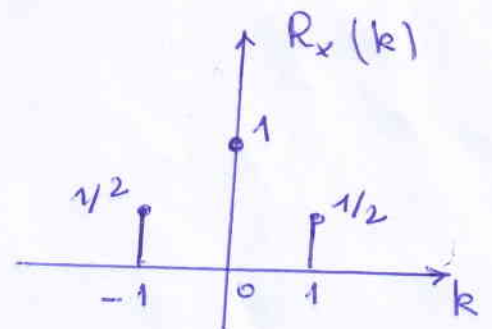
$$\frac{1}{2^n} \delta(n)$$

1 point

$$h(n) = \frac{1}{2^n} \text{ pour } n \geq 0 \Rightarrow h(n) = \frac{1}{2^n} \cdot u(n)$$

04) -  $X(n)$  est un signal aléatoire stationnaire au second ordre, centré  $E[X(n)] = 0$  et de fonction d'auto-corrélation

$$R_x(k) = \begin{cases} 1 & \text{si } k=0 \\ 1/2 & \text{si } k=\pm 1 \\ 0 & \text{si } k \text{ ailleurs} \end{cases}$$



La densité spectrale de puissance  $S_x(f)$ .

Etant donné que la fonction d'auto-corrélation est des crêtes donc on procède par la transformée de Fourier des crêtes.

$$S_x(f) = TF[R_x(k)] = \sum_{k=-1}^1 R_x(k) e^{-j2\pi f k}$$

$$S_x(f) = R_x(-1) e^{j2\pi f} + R_x(0) + R_x(1) e^{-j2\pi f}$$

$$= \frac{1}{2} e^{j2\pi f} + 1 + \frac{1}{2} e^{-j2\pi f}$$

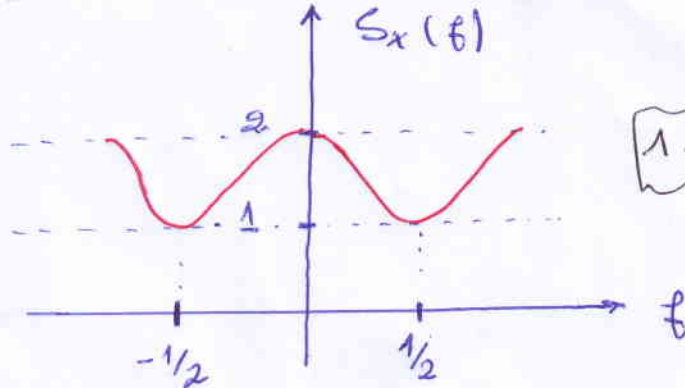
$$S_x(f) = \cos 2\pi f + 1$$

1 point

$$S_x(f) = 1 + \cos 2\pi f$$

$$f \in [-1/2, 1/2]$$

à bande limitée



1 point

5) - La densité spectrale  $S_y(f)$  à la sortie du filtre

$$S_y(f) = |H(f)|^2 \cdot S_x(f).$$

$$S_y(f) = \frac{1}{\frac{5}{4} - \cos 2\pi f} \cdot (1 + \cos 2\pi f)$$

1 point

$$S_y(f) = \frac{1 + \cos 2\pi f}{\frac{5}{4} - \cos 2\pi f}$$

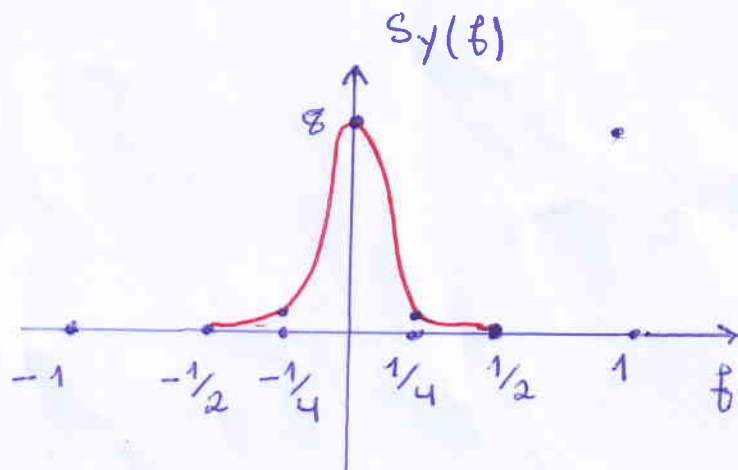
L'allure de  $S_y(f)$ .

à  $f = 0 \rightarrow S_y(f) = 8$

à  $f = \pm 1/2 \rightarrow S_y(f) = 0$

à  $f = \pm 1/4 \rightarrow S_y(f) = \frac{4}{5}$

à  $f = \pm 1 \rightarrow S_y(f) = 8$



1 point

## Solution.2

### Application des définitions

$$\begin{aligned}m_X(t) &= E[X(t)] = E[f(t, A)] = \int_{-\infty}^{\infty} f(t, A) T_A(a) da && 1 \text{ point} \\C_X(t, t') &= E[(X(t) - m_X(t))(X(t') - m_X(t'))^*] && 1 \text{ point} \\&= \int_{-\infty}^{\infty} [f(t, A) - m_X(t)][f(t', A) - m_X(t')]^* T_A(a) da \\ \sigma_X^2 &= E[|(X(t) - m_X(t))|^2] && \\ &= \int_{-\infty}^{\infty} |f(t, A) - m_X(t)|^2 T_A(a) da && 1 \text{ point}\end{aligned}$$

### Application des résultats précédents

$$\begin{aligned}m_X(t) &= \frac{1}{2\pi} \int_0^{2\pi} a \sin(\omega t + \phi) d\phi = 0 && 1 \text{ point} \\m_Y(t) &= \frac{1}{2\pi} \int_0^{2\pi} a \cos(\omega t + \phi) d\phi = 0 && 1 \text{ point} \\C_X(t, t') &= \frac{1}{2\pi} \int_0^{2\pi} a^2 \sin(\omega t + \phi) \sin(\omega t' + \phi) d\phi = 0 \\&= \frac{1}{2\pi} \int_0^{2\pi} a^2 \frac{1}{2} [\cos(\omega(t-t')) - \cos(\omega(t'+t) + 2\phi)] d\phi = 0 \\&= \frac{a^2}{2} \cos(\omega(t-t')) && 1 \text{ point} \\C_Y(t, t') &= \frac{1}{2\pi} \int_0^{2\pi} a^2 \cos(\omega t + \phi) \cos(\omega t' + \phi) d\phi = 0 \\&= \frac{1}{2\pi} \int_0^{2\pi} a^2 \frac{1}{2} [\cos(\omega(t-t')) + \cos(\omega(t'+t) + 2\phi)] d\phi = 0 \\&= \frac{a^2}{2} \cos(\omega(t-t')) && 1 \text{ point} \\ \sigma_X^2 &= C_X(t, t) = \frac{a^2}{2} && 1 \text{ point} \\ \sigma_Y^2 &= C_Y(t, t) = \frac{a^2}{2} && 1 \text{ point} \\C_{XY}(t, t') &= \frac{1}{2\pi} \int_0^{2\pi} a^2 \cos(\omega t + \phi) \sin(\omega t' + \phi) d\phi = 0 \\&= \frac{1}{2\pi} \int_0^{2\pi} a^2 \frac{1}{2} [\sin(\omega(t-t')) + \sin(\omega(t'+t) + 2\phi)] d\phi = 0 \\&= \frac{a^2}{2} \sin(\omega(t-t')) && 1 \text{ point}\end{aligned}$$